

الاسم واللقب:.....
السنة الدراسية: 2019/2018

المادة: الرياضيات
المستوى: الثانية ابتدائي

اِخْتِبَارُ الْفَصْلِ الْأَوَّلِ

التَّمْرِينُ الْأَوَّلُ:

قَارِنُ بَيْنَ كُلِّ عَدَدَيْنِ مِمَّا يَأْتِي بِوَضْعِ أَحَدِ الرَّمْزَيْنِ <أو>.

92 88	99 47	36 24
66 44	76 89	65 50

التَّمْرِينُ الثَّانِي:

اَكْتُبِ الْعَدَدَ الْمُنَاسِبَ تَحْتَ كُلِّ خَانَةٍ.

33=10+10+10+3

التَّمْرِينُ الثَّلَاث:

اسْتَعْمِلِ الْوَحْدَةَ لِقِيَاسِ الْخُطُوطِ التَّالِيَةِ:







- طُولُ الْخَطِّ الْأَخْضَرِ هُوَ وَحَدَاتٍ.

- طُولُ الْخَطِّ الْأَزْرَقِ هُوَ وَحَدَاتٍ.

- طُولُ الْخَطِّ الْأَحْمَرِ هُوَ وَحَدَاتٍ.

التّمرين الرَّابِع:

لأَحْظِ الجَدْوَلِ وَامْلَأِ الفَرَاغَاتِ كَمَا فِي المِثَالِ:

	1	2	3	4
أ				
ب				
ج				
د				

- المثلثُ في الخانة 2أ.

- المربعُ في الخانة

- في الخانة 3ج.

- المستطيلُ في الخانة

الوضعية الإدماجية:

باع تاجر 54 كُرْسِيًّا فِي الصَّبَاحِ وَ 35 كُرْسِيًّا فِي المَسَاءِ.

- كم كُرْسِيًّا باع التَّاجِرُ فِي اليَوْمِ؟

--	--

باع التَّاجِرُ كُرْسِيًّا فِي اليَوْمِ. مدرسة الرجاء والتفوق " الخاصة

Ecole Erradja wa Tafaouk
ÉCOLE PRIVÉE

