

الاسم واللقب:.....  
السنة الدراسية: 2019/2018

المادة: الرياضيات  
المستوى: الأولى ابتدائي

## تَصْحِيحُ إِخْتِبَارِ الْفَصْلِ الْأَوَّلِ


### التَّمْرِينُ الْأَوَّلُ:

املأ الشَّريطَ العَدَدِي.



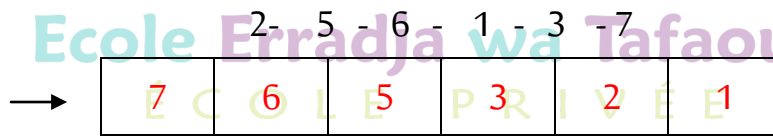
### التَّمْرِينُ الثَّانِي:

ارْزِطْ بِالْعَدَدِ الْمُنَاسِبِ.



### التَّمْرِينُ الثَّلَاث:

(أ) رَتِّبِ الْأَعْدَادَ التَّالِيَةَ مِنَ الْأَكْبَرِ إِلَى الْأَصْغَرِ



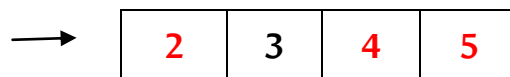
(ب) رَتِّبِ الْأَعْدَادَ التَّالِيَةَ مِنَ الْأَصْغَرِ إِلَى الْأَكْبَرِ

9 - 4 - 8 - 0 - 5 - 7



### التَّمْرِينُ الرَّابِع:

اكَتُبِ الْعَدَدَ الَّذِي يَسْبِقُ وَالْعَدَدَ الَّذِي يَلِي.



## التّمرين الخامس:

أحسب

$3+4=7$  ،  $2+6=8$  ،  $4+6=10$

$8+0=8$  ،  $3+2=5$  ،  $5+1=6$



مدرسة "الرجاء والتفوق" الخاصة

**Ecole Erradja wa Tafaouk**

ÉCOLE PRIVÉE